

سوادبستان ارمغان هفته

شماره

۱

نام و نام خانوادگی:

تاریخ:

پایه:

نام آموزگار:

ریاضی

علوم

فارسی

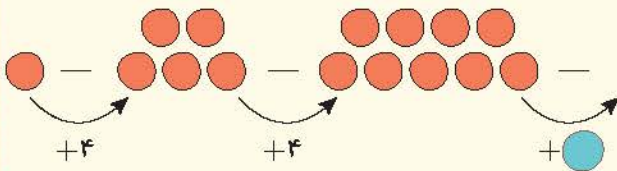
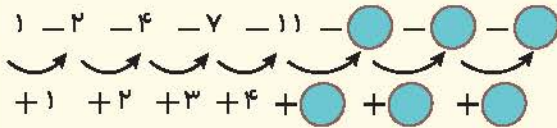
مطالعات اجتماعی

هدیه‌های آسمان

قرآن

ریاضی

۱ الگوهای زیر را ادامه دهید.



۲ ارغوان ۳۷۰ تومان پول دارد. ارسلان ۱۳۵ تومان بیشتر از او پول دارد. آن‌ها روی هم چند تومان پول دارند؟



۳ جمع و تفریق کنید.

$$\begin{array}{r} 632 \\ + 281 \\ \hline \end{array}$$

$$\begin{array}{r} 700 \\ - 547 \\ \hline \end{array}$$

$$\begin{array}{r} 489 \\ + 341 \\ \hline \end{array}$$

$$\begin{array}{r} 845 \\ - 757 \\ \hline \end{array}$$

۴ کامل کنید.

الف) ۱۵ میلی‌متر می‌شود سانتی‌متر و میلی‌متر

ب) ۳ سانتی‌متر و ۸ میلی‌متر می‌شود میلی‌متر



۱ جاهای خالی را با کلمه‌های مناسب پر کنید.

- الف) طرفی از زمین که رو به خورشید است، و طرفی که پشت به خورشید است، می‌باشد.
- ب) خورشید با و خود زمین را به محل خوبی برای زندگی موجودات زنده تبدیل کرده است.
- پ) باد شدیدی که می‌تواند در دریاها موج‌های بزرگ به وجود آورد و باعث غرق شدن کشتی‌ها بشود، است.
- ت) وسیله‌ای که جهت وزش باد را نشان می‌دهد، نام دارد.

۲ کدام صداها پیام‌رسان و کدام صداها آزاردهنده هستند؟




۳ الف) برای هر کدام از موارد زیر یک کاربرد بنویسید.

باد: سوخت: خورشید:

ب) بهتر است از کدام یک بیشتر استفاده کنیم؟ چرا؟



۱ از ترکیب کردن حرف‌هایی که از رنگین‌کمان پایین می‌آیند، ۱۵ کلمه‌ی معنی‌دار بسازید.



۲ در هر قسمت، جمله‌ای بنویسید و نشانه‌ی مشخص شده را بگذارید.

:(.)

:(?)

۳ کلمه‌های زیر را با دقت بخوانید و با توجه به نمونه طبقه‌بندی کنید.

«زبان - کودکان - رنگین کمان - فرشتگان - مهربان - تشنگان - پسران - نمایندگان - آبان - گرگان - آسمان - رانندگان»

زبان	
کودکان	

۴ کلمه‌های درهم ریخته را مرتب کرده و جمله را با خط زیبا بنویسید.

الف) آرامی - بر زمین - به - زینب - دانه‌ها - پاشید - را - .

ب) گل دسته‌ها - صدای - از - بلند - هنگام - غروب - اذان - شد - .

۵ هر کلمه را به معنی آن وصل کنید.

- | | |
|--------|-----------|
| میهن | شروع |
| دنیا | درگذشتگان |
| آغاز | سرسبزی |
| رفتگان | جهان |
| خرمی | کشور |

مطالعات اجتماعی

۱ آیا می‌دانید که خداوند برای هر انسانی در دنیا اثر انگشت مخصوص به خود قرار داده است؟ حالا انگشتان را جوهری کنید و در این محل بزنید.

اثر انگشت من

۲ از کجا می‌فهمیم هر فرد اهل کدام کشور است؟

۱) از زبانی که با آن صحبت می‌کند.


۲) از روی شناسنامه‌اش و این که از کجا صادر شده.

۳) خودش می‌تواند به ما بگوید اهل چه کشوری است.

۴) از روی چهره‌اش.



با دقت به شناسنامه‌ی خود نگاه کنید و جاهای خالی را در شناسنامه‌ی زیر کامل کنید.



هدیه‌های آسمان - قرآن

تعداد رکعت‌های هر نماز را جلوی آن بنویسید.

- نماز صبح:
- نماز مغرب:
- نماز ظهر:
- نماز عصر:
- نماز عشا:

۲ نام افراد خانواده‌ی پیامبر (ص) را بنویسید.

۳ با توجه به پیام قرآنی زیر معنی کلمه‌های مشخص شده چیست؟

«کَلُوا وَ اشْرَبُوا وَ لَا تُسْرِفُوا»

۱ بخورید - بیاشامید

۲ بخورید - اسراف نکنید

۳ بیاشامید - بخورید

۴ بیاشامید - اسراف نکنید

نیاز به تلاش	غیر خوب	خوب	خیلی خوب	تلاش	غیر خوب	خوب	خیلی خوب	نیاز به تلاش
ساخت کلمات و جملات								
هم معنی								
اطلاعات شناسنامه								
تعداد رکعت‌های هر نماز								
پیام قرآنی								

نیاز به تلاش	غیر خوب	خوب	خیلی خوب	تلاش	غیر خوب	خوب	خیلی خوب	نیاز به تلاش
الگوسازی								
جمع و تفریق								
تبدیل واحد طول								
فواید انرژی خورشید و باد								
صدای پیام‌رسان و آزار دهنده								

سوادبستان ارمغان هفته



شماره

۲



.....
.....
.....
.....

نام و نام خانوادگی:

تاریخ:

پایه:

نام آموزگار:

- ← ریاضی
- ← علوم
- ← فارسی
- ← مطالعات اجتماعی
- ← هدیه‌های آسمان
- ← قرآن

مرور سال گذشته

مرور سال گذشته

مرور سال گذشته

مرور سال گذشته

مرور سال گذشته

مرور سال گذشته

ریاضی

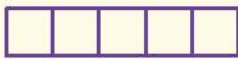
۱ مانند نمونه، باز شده‌ی هر عدد را بنویسید.

$$907 = 900 + 7$$

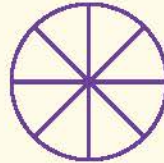
$$382 =$$

$$411 =$$

۲ با توجه به عبارت کسری داده شده، از هر شکل رنگ کنید.



۱ قسمت از ۵ قسمت مساوی



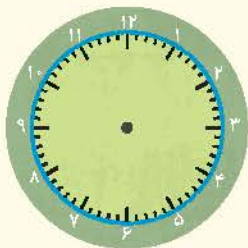
۷ قسمت از ۸ قسمت مساوی



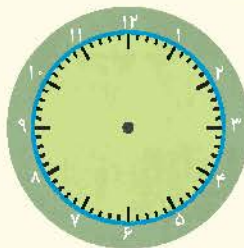
۴ قسمت از ۴ قسمت مساوی

۳ اتوبوسی در ایستگاه اول ۳۵ نفر مسافر سوار کرد و در ایستگاه دوم ۱۷ نفر مسافر سوار شدند. در این اتوبوس چند مسافر سوار شدند؟

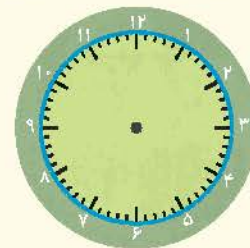
۴ زمان‌های خواسته شده را روی ساعت نشان دهید.



یک ربع مانده به ۱۰



ساعت ۲





هفت و نیم

۵ با رقم‌های ۹ و ۱ و ۸ همه عددهای دو رقمی که می‌توان نوشت را بنویسید. (بدون تکرار ارقام)

علوم

۱ الف) کدام خاک زیر سریع‌تر بر اثر باد فرسوده می‌شود؟



ب) چه نتیجه‌ای از این موضوع گرفته می‌شود؟

۲ در تهیه‌ی شکلات قالبی چه تغییر حالت‌هایی در مواد دیده می‌شود؟

۳ نام قسمت‌های مختلف دانه‌ی تازه جوانه زده‌ی زیر را بنویسید.



فارسی

۱ به‌جای نقطه‌چین یک حرف اضافه کنید تا ۸ کلمه‌ی جدید ساخته شود.

رد رد رد رد رد رد رد رد

۲ به هر گروه، فقط حرف «ا» را اضافه کنید و یک کلمه‌ی معنی‌دار بسازید.

ن ص ب و	ر ق چ	ل م پ	ک غ ذ	ش خ ه	ک ج
---------	-------	-------	-------	-------	-----



تصویر مناسب را انتخاب کنید و در جای درست بچسبانید.

یعنی کسی که با چوب و ارّه کار می‌کند.

یعنی کسی که با گل، ظرف‌های مختلف می‌سازد.

یعنی جایی که در آن آزمایش انجام می‌دهند.

کلمه‌ی داخل کمانک را در جای مناسب به جمله اضافه و جمله را با خطّ زیبا بازنویسی کنید.

الف) باران بارید و گیاهان را سیراب کرد. (تشنه)

ب) هوا خیلی سرد شده بود و ناگهان باد وزید. (تندی)

با هر دو کلمه، یک ترکیب جدید بسازید و در یک جمله‌ی زیبا به کار ببرید.

خود - دل - درد - کار

	←		=		+	
	←		=		+	

این کیف روز شنبه در حیاط مدرسه، گم شده است. در یک آگهی نشانی‌های آن را بنویسید.



.....

.....

مطالعات اجتماعی

۱ بچه‌ها وقتی به دنیا آمدید، روی نواری که پرستار دور دست شما بست، چه چیزهایی نوشته شده بود؟ دور آن‌ها خط بکشید.

نام خانوادگی	وزن	نام پدر	قد
نام مادر	رنگ چشم	نام	جنسیت

۲ به مهناز کمک کنید با وصل کردن واژه‌ها مشخصات خود را تشخیص دهد.

نام خانوادگی

امیر

محل تولد

مهناز

نام

صالح

نام پدر

شیراز

۳ تاریخ تولد خود را به چه شکلی می‌نویسید؟

--	--	--

روز، ماه، سال

۴ اگر شناسنامه‌ی کسی را پیدا کردید با آن چه می‌کنید؟

هدیه‌های آسمان - قرآن

۱ راز خوشبختی چیست؟

۴ پاکیزگی

۳ درس خواندن

۲ پول

۱ راستگویی

۲ قسمت‌های مختلف سلام نماز را به ترتیب شماره گذاری کنید.

○ السلام علیکم و رحمة الله و برکاته

○ السلام علیک ایها النبی و رحمة الله و برکاته

○ السلام علینا و علی عبادالله الصالحین

۳ «مالک یوم الدین» مربوط به کدام سوره است؟

نیاز به تلاش	نیاز به توجه	خوب	خیلی خوب	شاخص‌ها
				ساخت کلمات خلاقانه
				جمله‌سازی
				اطلاعات روی دستبند نوزاد
				سلام نماز
				حفظ سوره‌ها

نیاز به تلاش	نیاز به توجه	خوب	خیلی خوب	شاخص‌ها
				کسر
				ساعت
				اثرات باد بر خاک
				تغییر حالت مواد
				قسمت‌های مختلف دانه

سوادبستان ارمغان هفته

شماره

۳

نام و نام خانوادگی:

تاریخ:

پایه:

نام آموزگار:

فصل ۱: الگویابی

ریاضی

درس ۱: انتخاب موضوع تحقیق، مشاهده‌ی خوب

علوم

درس ۱: نیایش و محله‌ی ما

فارسی

درس ۱: من به دنیا آمدم ۲

مطالعات اجتماعی

درس ۱: آستین‌های خالی

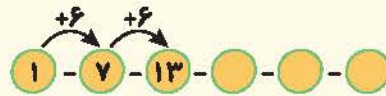
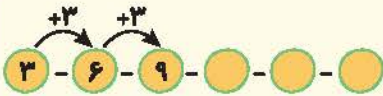
هدیه‌های آسمان

جلسه‌ی اول

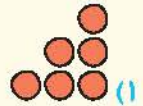
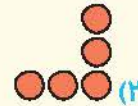
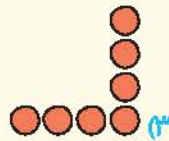
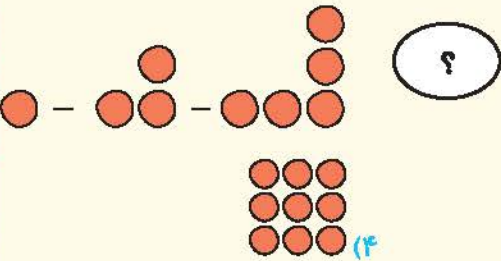
قرآن

ریاضی

۱ الگوهای زیر را ادامه دهید.



۲ شکل بعد الگوی زیر کدام یک از گزینه‌های داده شده است؟



۳ ساختمان لاله ۳ طبقه و هر طبقه ۵ واحد دارد و ساختمان آرش ۶ طبقه و هر طبقه ۴ واحد دارد. این دو ساختمان روی هم چند واحد دارند؟

۴ کتاب فروشی هر کتاب را ۳۰۰ تومان می‌خرد و ۴۵۰ تومان می‌فروشد. با کامل کردن جدول زیر به سؤالات پاسخ دهید.

کتاب	۱	۲	۳	۴	۵	۶
سود						

الف) این کتاب فروش اگر پنج کتاب بفروشد، چند تومان سود می‌کند؟

ب) این کتاب فروش چند کتاب بفروشد تا با سود آن دو کتاب بتواند بخرد؟

۵ در قنادی پدر مینا یک قفسه برای خمیرهای شیرینی در نظر گرفته شده است. این قفسه ۵ طبقه دارد. در پایین‌ترین طبقه آن ۵ سینی و در هر سینی ۲ خمیر شیرینی وجود دارد. هر طبقه که بالا می‌رویم یک سینی کم می‌شود.

(الف) در پایین‌ترین طبقه چند خمیر شیرینی وجود دارد؟

(ب) چه الگویی بین تعداد خمیرهای شیرینی طبقات وجود دارد؟

(پ) در این قفسه چند خمیر شیرینی قرار دارد؟

۶ یک نانوا هر نانی که می‌فروشد ۱۵ تومان سود می‌کند. او چند نان باید بفروشد تا ۷۵ تومان سود کند؟

علوم

۱ در هر مورد زیر از چه حسی برای مشاهده‌ی دقیق استفاده شده است؟

چه صدای نازکی

چه پره‌های نرمی

چه گل خوش‌بوئی



۲ در هر جمله دور کلمه‌ی درست خط بکشید.

(الف) برای به‌دست آوردن اطلاعات صحیح نزد (متخصصین / دوستان) می‌رویم.

(ب) برای مشاهده‌ی دقیق باید از (ابزار / تمام حواس) استفاده کنیم.

۳ کدام گزینه‌ی زیر قسمتی از یک مشاهده‌ی دقیق نیست؟

(۴) دیدن

(۳) لمس کردن

(۲) شنیدن

(۱) تصور کردن

۴ یک موضوع تحقیق در ذهنتان در نظر بگیرید و تصور کنید مثل یک دانشمند می‌خواهید درباره‌ی آن تحقیق کنید. یک نقاشی

بکشید که نشان دهد چه روشی را برای تحقیق انتخاب کرده‌اید؟

فارسی

۱ از واژه‌های درس محله‌ی ما و نیایش استفاده و جدول را کامل کنید.

یک نقطه‌ای	دو نقطه‌ای	سه نقطه‌ای	چهار نقطه‌ای	پنج و شش نقطه‌ای

مانند نمونه انجام دهید.

سبزه‌ی پروانه‌ی خداوند بخشنده
صاف خنده‌ی گل

کلمات را با دقت بخوانید و از بزرگ به کوچک مرتب کنید.

«روستا - محله - شهر - خانه - خیابان»

حروف درهم ریخته را مرتب و معنای هر کلمه را به آن وصل کنید.

ا ط ر ف ا	د ش ی م ن	ن ن م ا د	ا ش ت ی ا ق	د ی ل ه م
↓	↓	↓	↓	↓
.....
۱۰۰	۱۰۰	۱۰۰	۱۰۰	۱۰۰
شوق و علاقه	دور و بر	چون	کینه	صمیمی

از بین کلمات زیر جمع‌ها را پیدا کنید و مفرد هر کدام را بنویسید.

نبات	محلات	حیوانات	تمرینات	دفعات	رانندگان	شکلات
↓	↓	↓	↓	↓	↓	↓
.....

مطالعات اجتماعی

اولین کاری که پرستار بعد از تولد نوزاد انجام می‌دهد، است.

۱) وزن کردن

۲) ثبت اثر کف پا

۳) اندازه‌گیری قد

۴) انتخاب اسم

۲ گزینه‌های زیر را با دقت به هم وصل کنید.

- محل تولد
- بینایی نوزادان
- شنوایی نوزادان
- محل صدور
- بدو تولد
- ۲ ماهگی
- مکانی که شناسنامه صادر و دریافت شده است.
- مکانی است که شخص در آن‌جا به دنیا آمده است.

۳ یکی از مدارک مورد نیاز آقای اسماعیلی برای استخدام در شغل هواپیمایی، شناسنامه است. به نظر شما شناسنامه‌ی هرکس چه چیزی را نشان می‌دهد؟

هدیه‌های آسمان - قرآن

۱ تعداد دفعات تکرار هر ذکر را در اذان و اقامه بنویسید.

اذان	ذکر	اقامه
	الله اکبر (در ابتدای اذان و اقامه)	
	حیّ علی الصلاه	
	لا اله الا الله	

۲ در کدام تصویر دانش‌آموزان بهترین راه را برای تشکر از خدا انتخاب کرده‌اند؟ دلیل انتخاب خود را بیان کنید.



نیاز به تلاش	فصل قبول	خوب	خیلی خوب	شاخص‌ها
				◀ کلمات مفرد و جمع
				◀ کاربرد و محتوای شناسنامه
				◀ توانایی‌های نوزادان
				◀ اذکار اذان و اقامه
				◀ شکرگزاری از خدا

نیاز به تلاش	فصل قبول	خوب	خیلی خوب	شاخص‌ها
				◀ الگویابی
				◀ جدول نظام‌دار
				◀ سود
				◀ استفاده از حواس پنجگانه
				◀ هم‌معنی

سوادبستان ارمغان هفته



شماره

۴



نام و نام خانوادگی:

تاریخ:

پایه:

نام آموزگار:

فصل ۱: شمارش چندتاچندتا، ماشین ورودی- خروجی

درس ۱: زنگ علوم

درس ۱ و ۲: محله‌ی ما و زنگ ورزش

درس ۲: من بزرگتر شدم


درس ۲: غروب یک روز بهاری

جلسه‌ی دوم

- ریاضی
- علوم
- فارسی
- مطالعات اجتماعی
- هدیه‌های آسمان
- قرآن

ریاضی

۱ برای شکل زیر با توجه به دسته‌بندی انجام شده، یک عبارت جمع بنویسید.



..... + + =

۲ طبقه سوم یک مرکز خرید از شماره‌ی ۱ تا ۳۰۱ شماره‌گذاری شده است. اگر تعداد مغازه‌های طبقات این مرکز خرید با هم برابر باشند، در این مرکز خرید سه طبقه چند مغازه وجود دارد؟

.....

.....

۳ با توجه به کاری که ماشین انجام می‌دهد، جاهای خالی را پر کنید.

۲۰۸	➔ +۱۲	
۳۷		
۹۷		

۴۱۵	➔ -۱۷		➔ +۲۳	
		۵۷		۱۸۵

۴ اگر سه‌شنبه دومین روز ماه باشد، تا پایان ماه چه تاریخ‌هایی روز سه‌شنبه است؟

.....

۵ سارا ۵ روز متوالی و هر روز ۱۰ دقیقه بیشتر از روز قبل ورزش کرده است. اگر روز اول ۱۵ دقیقه ورزش کرده باشد، در مجموع چند دقیقه ورزش کرده است؟

علوم

۱ هر شکل چه روش تحقیقی را نشان می‌دهد؟



۲ در هر جمله دور کلمه‌ی درست خط بکشید.

(الف) جمع آوری اطلاعات از طریق پرسیدن از افراد مطلع (مصاحبه / مشاهده) نام دارد.

(ب) پرسش‌های پرسشنامه باید (سخت و پیچیده / ساده و کوتاه پاسخ) باشند.

۳ امید وقتی یک فرفره را روی فرش چرخاند، زمان کمتری چرخید، ولی وقتی همان فرفره را روی سینی چرخاند، زمان طولانی چرخید. بعد از این مشاهده یک پرسش در ذهنش آمد. چه پرسشی به ذهن شما می‌رسد؟ پرسش خود را بنویسید.

۴ موارد مرتبط را وصل کنید.

فیلم مستند

پزشک

جدول آماری

کتاب علمی

مجله

منابع مکتوب

منابع غیر مکتوب

فارسی

۱ نقطه‌های متن زیر را با دقت بگذارید.

در محله‌ی ما، فضای سبز بسیار زیبایی است. در انهای آن یک ورزشگاه بزرگ ساخته شده است. حواهر من علاقه‌ی بسیار زیادی به ورزش سا دارد. او در دوره‌ی آموزشی بسیار کرده است و در کلاس‌ها شرکت می‌کند.

۲ کدام کلمه‌ها با هم ترکیب می‌شوند؟ آن‌ها را پیدا کنید و کنار هم بنویسید و با ترکیب‌های تازه جمله بسازید.

		مفید	استخر
		کم آب	شناگر
		ماهر	بحث

۳ جاهای خالی را با کلمه‌ی مناسب کامل کنید.

- (الف) درس خواندن در مدرسه را دوست دارم.
 (ب) تو درس خواندن در مدرسه را
 (پ) شما درس خواندن در مدرسه را
 (ت) درس خواندن در مدرسه را دوست دارند.

۴ کلمات هم‌معنی را هم‌رنگ کنید.

پیوسته	بحث	جنب و جوش	تلاش	نام‌نویسی
فایده	پی‌درپی	سود	ثبت‌نام	گفت‌وگو

مطالعات اجتماعی

۱ رشد کردن یعنی چه؟

- (۱) بزرگ شدن (۲) کامل‌تر شدن (۳) تغییرات موجودات زنده (۴) قد کشیدن

۲ با توجه به عددها، برچسب مربوط به خط زمان را در جای مناسب بچسبانید.

(۱)	(۲)	(۳)	(۴)
-----	-----	-----	-----

